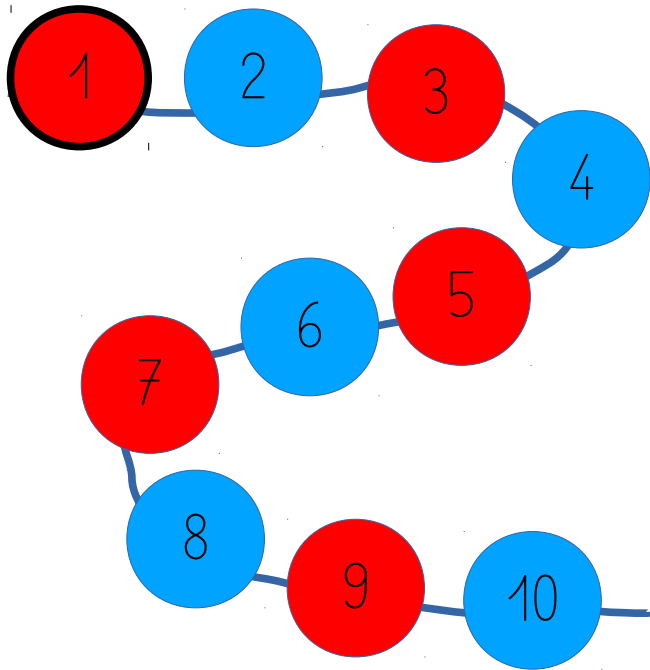


mathématiques 1



Tu veux apprendre à compter jusqu'à 10 ?
Pose ton doigt sur chaque perle en partant
de la perle rouge entourée de noir, et
compte avec moi :



mathématiques 2



Tu veux apprendre à compter de 10 à 0 ?
Pose ton doigt sur chaque nombre et
compte avec moi pour faire le décompte
avant le lancement de la fusée :

10 - 9 - 8 - 7 - 6 -
5 - 4 - 3 - 2 - 1 - 0



mathématiques 3



Prends un crayon et une ardoise et écris les
chiffres que tu entends (de 0 à 9).



mathématiques 3



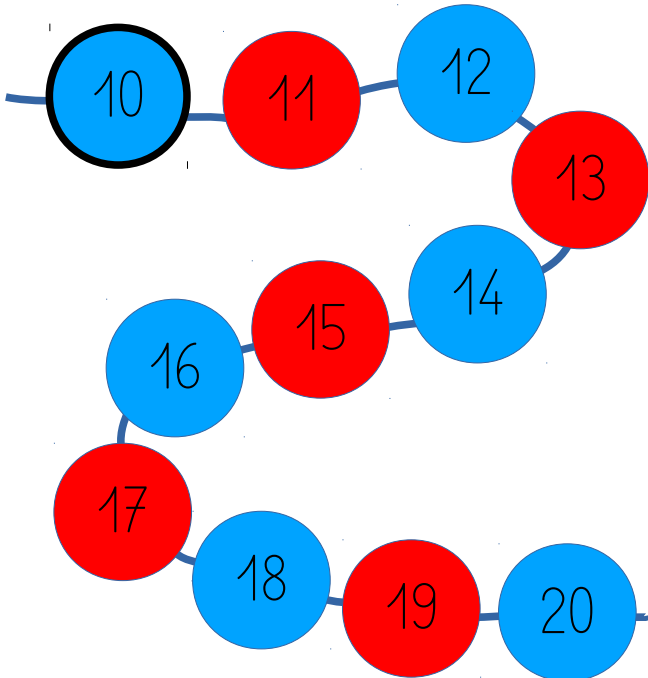
Voici les chiffres que tu devais écrire :

3 - 2 - 5 - 7 - 6 -
1 - 4 - 9 - 8 - 0

mathématiques 4



Tu veux apprendre à compter de 10 à 20 ?
Pose ton doigt sur chaque perle en partant
de la perle bleue entourée de noir, et
compte avec moi :



mathématiques 5



Tu veux apprendre à compter de 20 à 10 ?
Pose ton doigt sur chaque nombre et
compte avec moi pour faire le décompte
avant le lancement de la fusée :

20 — 19 — 18 — 17 — 16 — 15
— 14 — 13 — 12 — 11 — 10



mathématiques 6



Prends un crayon et une ardoise et écris les
nombres que tu entends (de 10 à 19).




mathématiques 6



Voici les nombres que tu devais écrire :

12 — 17 — 15 — 11 —
19 — 14 — 13 — 18 —
16 — 10

mathématiques 7



Utilise les petites barres rouges et bleues pour trouver toutes les barres qui font 10 lorsqu'on les met ensemble. Écris les chiffres sur l'ardoise pour t'en souvenir.



mathématiques 7



Voici les barres que tu devais trouver et qui font 10 quand on les met ensemble :

$$1 + 9$$

$$6 + 4$$

$$2 + 8$$

$$7 + 3$$

$$3 + 7$$

$$8 + 2$$

$$4 + 6$$


$$9 + 1$$

$$5 + 5$$

mathématiques 8



Mets ton doigt sur le rond rouge, puis déplace-le en suivant mes indications.



mathématiques 8



Si tu as bien suivi mes indications, ton doigt doit être arrivé sur le rond fushia.

